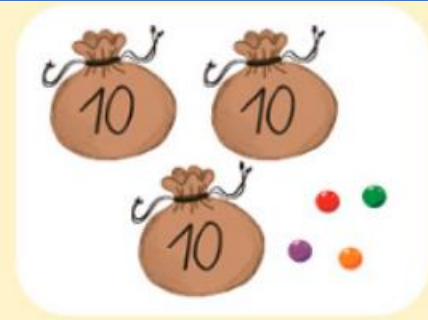
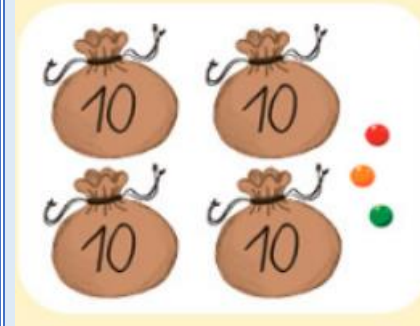
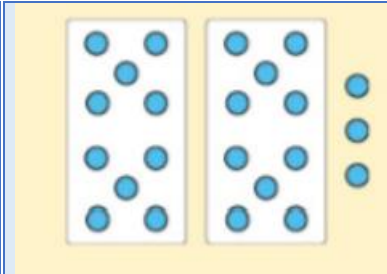


Mon chiffre des dizaines est le même que celui des unités.	Mon chiffre des dizaines est plus grand que 4. Mon chiffre des unités est plus petit que 3.
Je suis un nombre entre 30 et 35. Mon chiffre des unités est 4.	$40 + 5$
Mon chiffre des unités est plus grand que 8. Mon chiffre des dizaines est 2.	5d 6u
2u 4d	Je suis plus grand que 38. Je suis plus petit que 42.
J'ai 6 dizaines, 0 unités.	Je suis le plus grand nombre à deux chiffres.
$10 + 10 + 10 + 10 + 10 + 1 + 1 + 1$	$50 + 10$



2d 7u



8u 1d

$10 + 10 + 9$

J'ai 7 unités et 4 dizaines.

$20 + 4$

44

52

34

45

29

40

60

99

53

60

74

47

29

24

18

23

38

34

43

27

36

81

14

90

72

12

65

37

6

42

82

57

10